



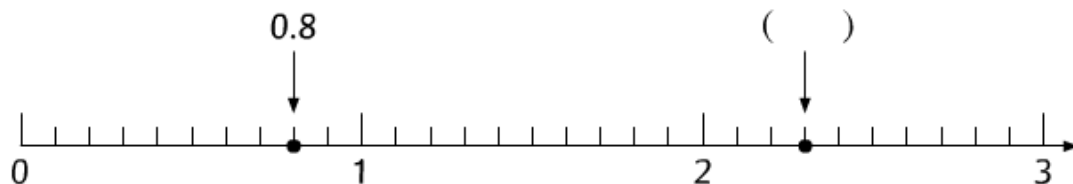
全頁答案

依指示完成下列各題。



答案

- ① 在 () 內用小數寫出箭嘴所指的刻度。



答案

- ② 在上面的數線上，用紅色箭嘴標示出 2.05 的位置。



答案

- ③ 以箭嘴所表示的三個小數中，最小的是 _____，最大的是 _____。

把下列各組小數由小至大排列出來。



答案

- ④ 4.3, 0.8

_____ < _____



答案

- ⑤ 0.53, 0.534

_____ < _____



答案

- ⑥ 0.3, 0.283, 0.287

_____ < _____ < _____



答案

- ⑦ 7.5, 7.05, 7.055

_____ < _____ < _____

依指示組成適當的小數。



答案

- ⑧ 用 3、2 和 7 組成一個比 3.8 大的二位小數：
-
- .
-
-



答案


- ⑨ 用 0、5、2 和 8 組成最小的一位小數，而且當中的 0 不能被省略：

.

哪些「0」不能被省略？

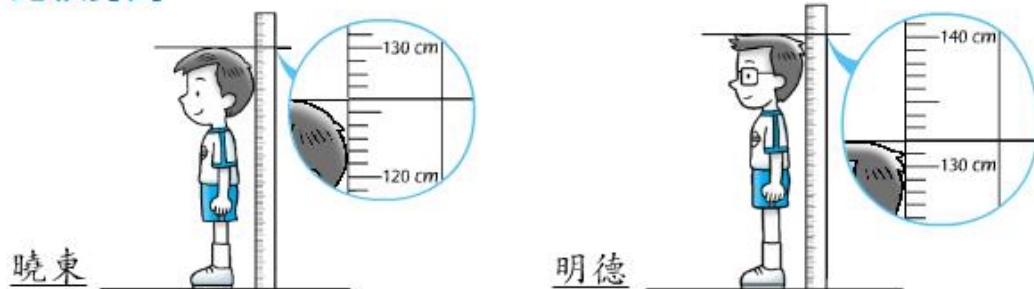
填填看。

- ⑩ a 依照下圖中的數變化的規律，在空格內填寫正確的數。



- b 上圖各數中，最小的是 _____，最大的是 _____。

比較身高



- ⑪ 曉東的身高是 _____ 米。

- ⑫ 明德的身高是 _____ 米。

我的身高是 130 厘米。



- ⑬ 曉東、明德和淑儀三人之中，最高的是 _____。