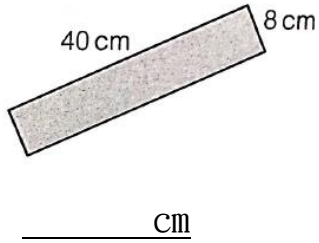



(一) 求下列各圖的周界：

1.



2.



(二) 完成下表：


長方形	長度	闊度	周界
A	15cm	3cm	
B		35m	160m
C	77mm		184mm
D	47cm	32cm	

長方形的周界：
 (長 + 闊) × 2

(三) 細閱以下題目，然後回答問題，請寫出橫式、答案、單位和答句。

1. 長方形賀卡闊 9 厘米，長 13 厘米，它的周界是多少厘米？

2. 圖形 B 和圖形 D 的周界相差多少 cm?



3. 右圖是公園內的一塊長方形告示牌，它的周界是 108cm，長是多少 cm?