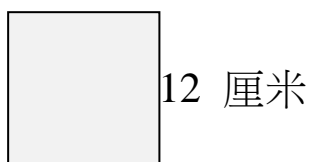


18 正方形的周界

計算下列正方形的周界。

1.



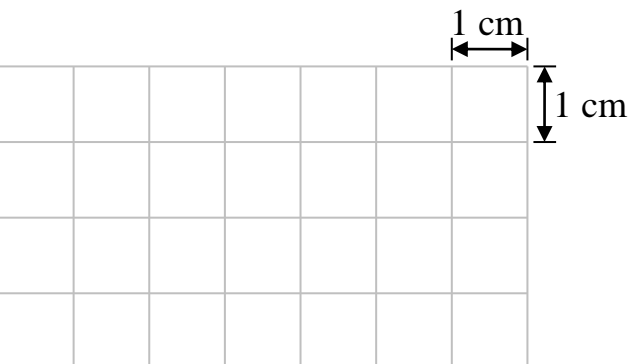
$$\square \times \square$$

$$= \square$$

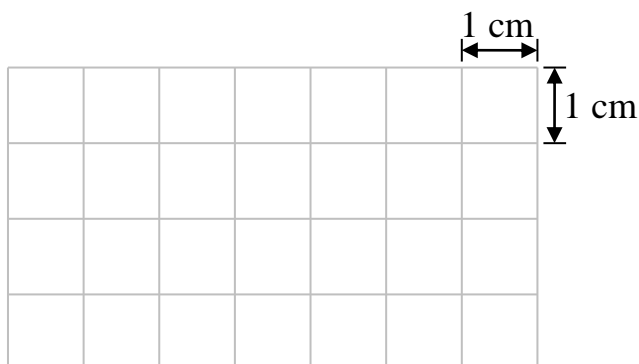
周界是 _____ 厘米。

依指示畫出正方形。

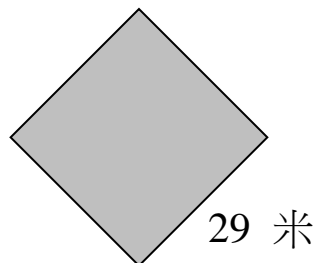
3. 周界是 8 厘米的正方形。



4. 周界是 12 厘米的正方形。



2.

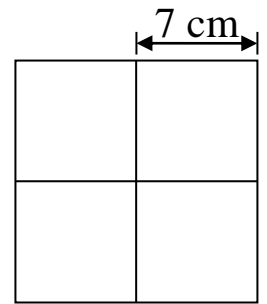


周界是 _____。

列式計算下列各題。

5. 家兒在邊長 30 厘米的正方形畫紙上繪畫了一幅圖畫。如果在畫紙的邊緣圍上一條彩帶，最少要彩帶多少厘米？

6. 用 4 張邊長 7 厘米的正方形手工紙拼出一個大正方形，大正方形的周界是多少厘米？



7. 表弟圍繞正方形草地周邊踏單車，他踏了 3 圈，約共踏了 504 米。這草地的邊長約是多少米？