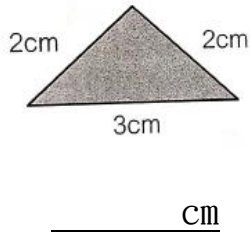
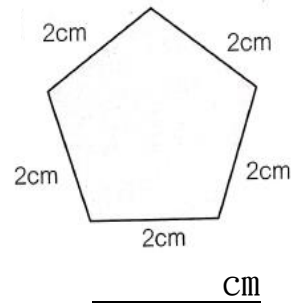


(一) 求下列各圖的周界：

1.



2.



(二) 下面的方格紙是由邊長 1cm的小正方形方格組成，求下列各圖形的周界：

1.	2.	3.	4.
A	B	C	D

1. $A =$ _____ cm 2. $B =$ _____ cm 3. $C =$ _____ cm 4. $D =$ _____ cm

細閱上圖，以下哪一項描述是正確的？把該選項的圓圈塗黑和塗滿。

- A. B 的周界比 C 的長。
- B. C 的周界比 B 的長。
- C. B 和 C 的周界相等。
- D. 無法比較 B 和 C 的周界。

(三) 下面的方格紙是由邊長 1cm的小正方形方格組成，請回答以下問題：

A	B	C
---	---	---

(a) 圖形 B 的周界是 _____ cm 。

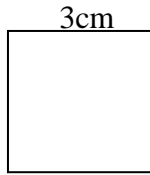
(b) 圖形 A 和圖形 C 的周界相差 _____ cm 。

(c) 比較以上三個圖形的周界，把它們由長至短排列起來。

圖形 _____， 圖形 _____， 圖形 _____
 (最長) (最短)

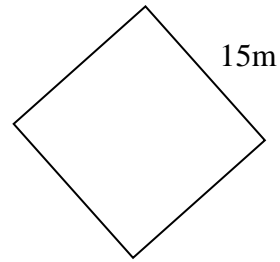
(一) 求下列各圖的周界：

1.




_____ = _____ ()

2.



_____ = _____ ()

3. 每個小正方形的邊長是 4 厘米，大正方形的周界是多少厘米？



= _____ ()

大正方形周界是 _____ ()。

正方形的周界：
 邊長 × _____

(二) 完成下表：

正方形	邊長	周界
A	19 cm	
B		116 m
C		264 cm

(三) 細閱以下題目，然後回答問題，請寫出橫式、答案、單位和答句。

1. 正方形手帕的周界是 36 cm，它的邊長是多少 cm？

2. 花園的正方形草地邊長 7 米，草地的周界共有多少米？

3. 用一條長 48 厘米的鐵線圍出一個正方形。正方形的邊長是多少厘米？
