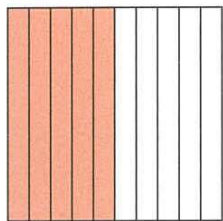


每一大方格代表 1，根據着色部分填寫適當的答案。

①

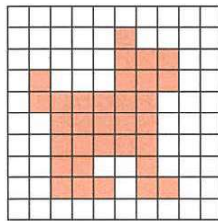


用分數表示：

用小數表示：_____

讀作：_____

②

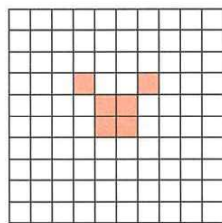




用分數表示：

用小數表示：_____

讀作：_____

③



用小數表示上圖的着色部分。

答案：_____

用小數表示下列各分數。(可省略的「0」不需寫出來)

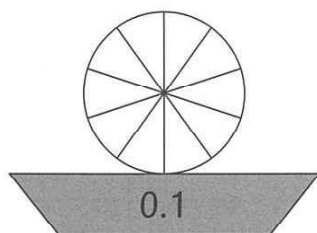
④ $\frac{7}{10} = \square$

⑤ $3\frac{9}{100} = \square$

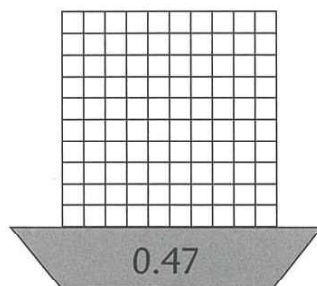
⑥ $\frac{83}{1000} = \square$

依小數填色。

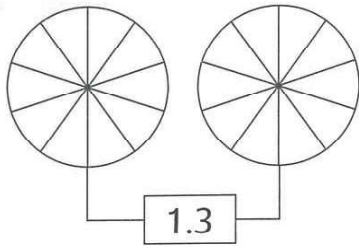
⑦



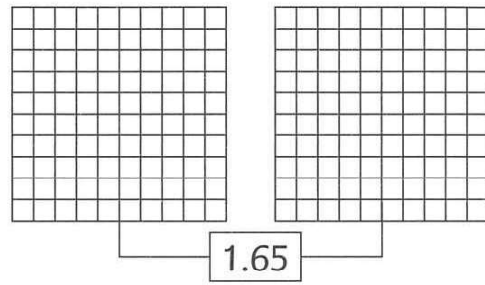
⑧



⑨ 每一個圓形代表 1。



⑩ 每一個大方格代表 1。



以小數表示貨幣的總值。

⑪



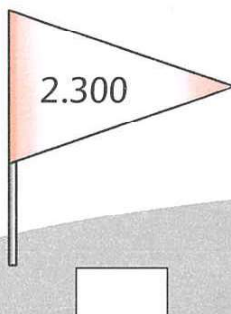
共有 _____ 元

填一填，圈一圈。

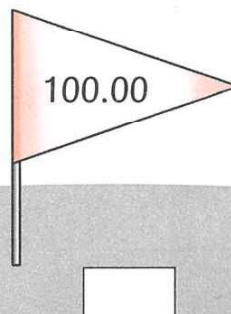
- ⑫ 3.14 是 (一位小數 / 二位小數 / 三位小數)。
- ⑬ 在 20.857 中，數字「8」是在 _____ 位。
- ⑭ 在 48.754 中，數字「5」的數值是 _____。
- ⑮ 在 12.36 中，數字 (「1」 / 「3」 / 「6」) 所代表的數值最小。

把下列小數中可省略的 0 劃去，然後在空格內寫出省略 0 後的數。

⑯



⑰



⑱

