



除加混合計算

日期：_____

 計算下列各題。

1. $60 \div 5 + 7$
 = _____
 = _____

2. $60 \div (5 + 7)$
 = _____
 = _____

3. $39 + 584 \div 8 =$ _____

4. $(82 + 34) \div 4 =$ _____

5. $320 \div (11 + 9) =$ _____

6. $156 \div 6 + 169 =$ _____

7. $(264 + 18) \div 3 =$ _____

備試筆記

計算除加混合題，要注意：

1. 如有括號：先計算括號內的部分
2. 如沒有括號：先除後加

 列式計算下列各題。

8. 小正的數學科測驗得分是90分，他的得分是小文的3倍。小君的得分比小文多48分，小君的得分是多少？

9. 興趣班有男生7人和女生8人，老師把120張卡紙平均分給他們，每人分得多少張？

10. 一盒4個裝的蓮蓉月餅售128元，比一盒半打裝的冰皮月餅便宜22元。平均一個冰皮月餅售多少元？



11. 家中有一盒橙汁和一瓶橙汁，分別有250 mL和650 mL。媽媽喝了瓶裝橙汁的一半，爸爸喝了家中餘下的所有橙汁，他喝了橙汁多少？

12. $480 + 120 \div 4 =$ (把該選項的圓圈塗黑和塗滿)

- A. 15 ○ B. 150 ○ C. 483 ○ D. 510

13.



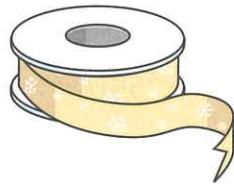
我有的 5 元硬幣共值 160 元。

我有的 5 元硬幣比柔柔多 20 個。



子軒有 5 元硬幣 _____ 個。

14.



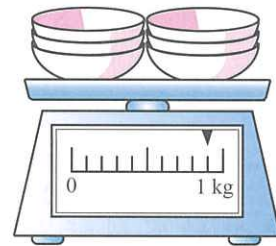
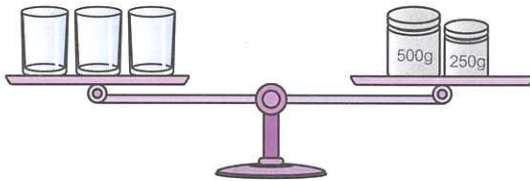
2 米

取分重點

留意要把各項數據化為相同單位再計算。

思欣有上圖的絲帶，她尚欠絲帶 16 厘米才足夠製作花球 8 個。製作一個花球須用絲帶 _____ 厘米。

15.



- (a) 每個杯子的重量是 _____ g。
 (b) 一個杯子和一個碗子共重 _____ g。

16. 偉文和弟弟各有 154 元，他們合資購買了一套十一本的故事書，平均每本故事書售多少元？(列式計算)