
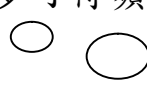






請在題目上做記號，並運用思考區，幫助同學理解問題。

<p>例子</p>	<p>每個小花瓶可插花 13 枝，花店有玫瑰花 50 枝，<u>最少需要小花瓶</u>多少個？</p> <p>最少需要花瓶：  <math>50 \div 13</math>  <math>= 3(\text{個}) \cdots 11(\text{枝})</math>  <math>\therefore</math> 最少需要花瓶 4 個。</p>	<p><b>思考區</b></p> <p>餘下的花，需要多一個花瓶來插嗎？</p>
<p>1</p>	<p>絲帶 91 厘米，每 18 厘米可做一個蝴蝶結，最多可做蝴蝶結多少個？</p>	<p>餘下的絲帶可做多一個蝴蝶結嗎？</p>
<p>2</p>	<p>志華有 94 枝小木棒，他把每 24 枝塗上同一種顏色。如果他要把所有小木棒都塗上顏色，他共要用顏色多少種？</p>	<p>餘下的木棒要多塗一種顏色嗎？</p>
<p>3</p>	<p>顏色筆 80 枝，每 35 枝放進一個膠盒內，最少需要膠盒多少個才可裝起所有顏色筆？</p>	<p>餘下的顏色筆需要多一個膠盒嗎？</p>
<p>4</p>	<p>原子筆一枝售 15 元，妹妹有 50 元，她最多可買原子筆多少枝？</p>	<p>餘下的錢可買一枝筆嗎？</p>

		思考區
5	進希有 68 粒彈珠，每 26 粒放進一個袋子裏，他最少要用袋子多少個？ 	
6	蘋果 56 個，分給 17 位小朋友，每人最多可得蘋果多少個？ 	
7	每輛小巴可坐 18 人，現有乘客 79 人，最少要小巴幾輛？ 	
8	草莓 46 粒，分派每人 14 粒，最多可派給多少人？ 	
9	廚櫃共有碟子 880 隻，疊成 25 隻一疊，最少要疊成多少疊？ 