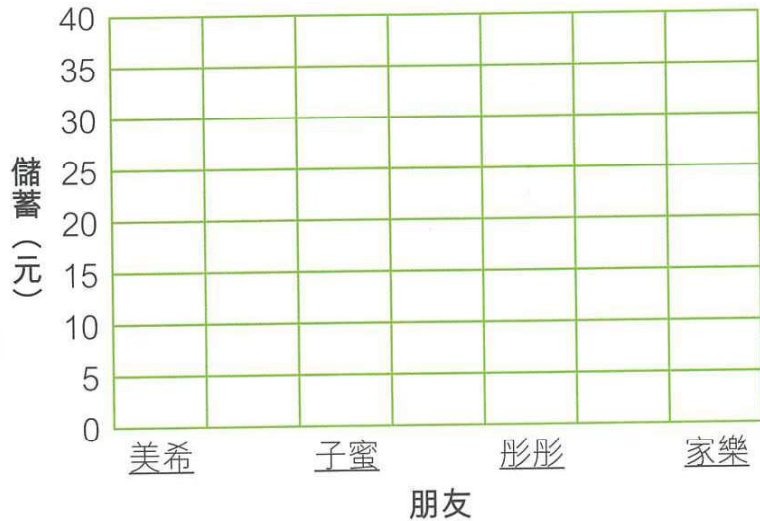


✂ 小瑩記錄了她四位朋友本月的儲蓄，根據資料，製作棒形圖。

1.

朋友	儲蓄
美希	\$20
子蜜	\$30
彤彤	\$25
家樂	\$35

小瑩的四位朋友本月的儲蓄

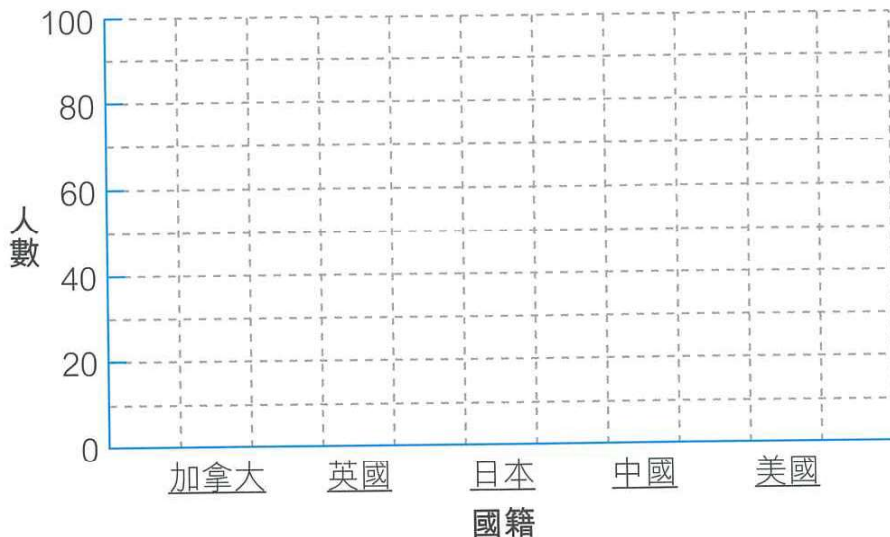


⚙ 下表記錄了聖安娜國際學校各國籍學生的人數，根據資料，製作棒形圖。

2.

國籍	中國	英國	美國	加拿大	日本
人數	80	60	90	70	30

聖安娜國際學校各國籍學生的人數



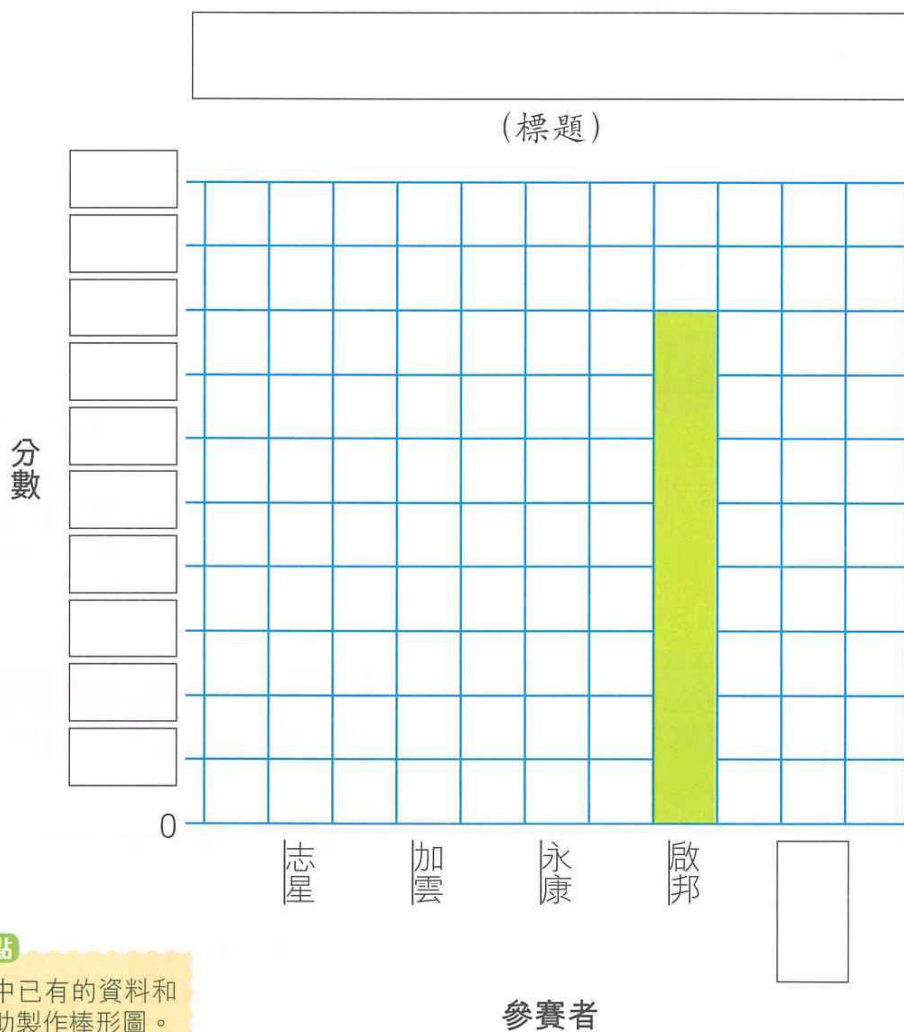
🔒 取分重點

製作棒形圖時，留意橫軸上各項資料的次序。

3. 啟明學校舉行歌唱比賽，以下資料顯示五位參賽者在初賽取得的分數。

參賽者	永康	加雲	志星	文豪	啟邦
分數	60	90	50	70	80

(a) 根據以上資料，完成以下的棒形圖，並加上標題。



取分重點

可利用圖中已有的資料和數據，協助製作棒形圖。

(b) 歌唱比賽規定參賽者須於初賽取得不少於 ▲ 分才可進入決賽。如果只有加雲、啟邦和文豪可以進入決賽，▲可能是多少？為甚麼？

答案：▲可能是 _____，因為 _____。