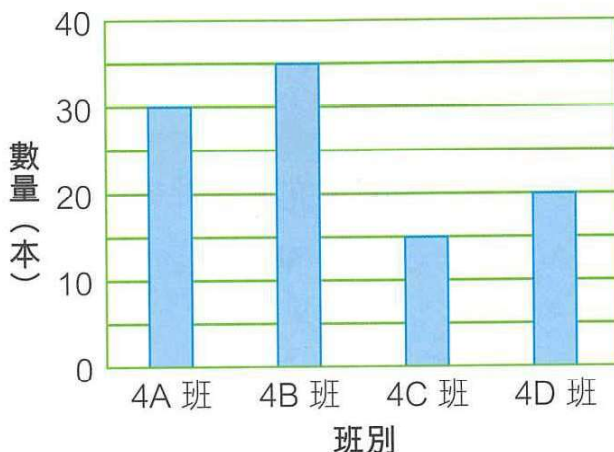


 以下的棒形圖顯示了四年級同學本星期借閱圖書的數量。

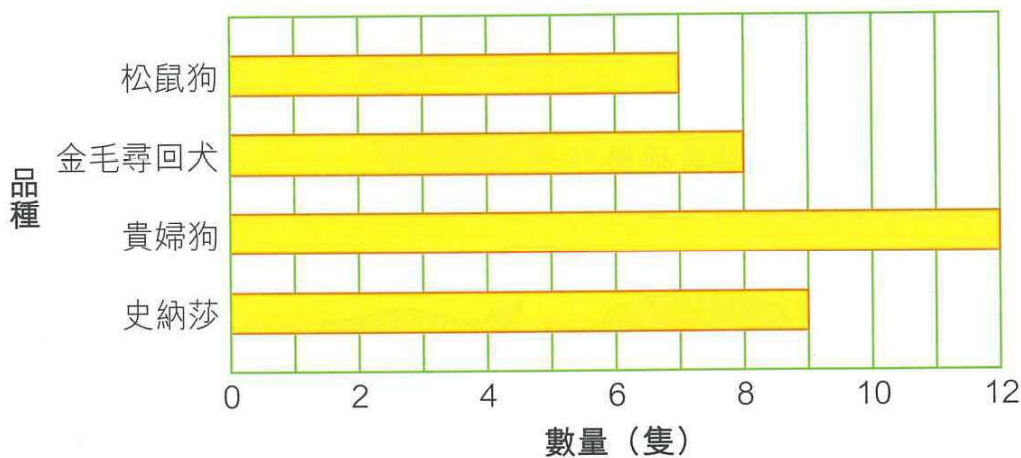
- _____ 班借閱圖書的數量最多，共有 _____ 本。
- 4A 班借閱圖書的數量是 4C 班的 _____ 倍。
- 4A 班借閱圖書的數量和 4D 班的相差 _____ 本。
- 四年級同學本星期共借閱圖書 _____ 本。

四年級同學本星期借閱圖書的數量



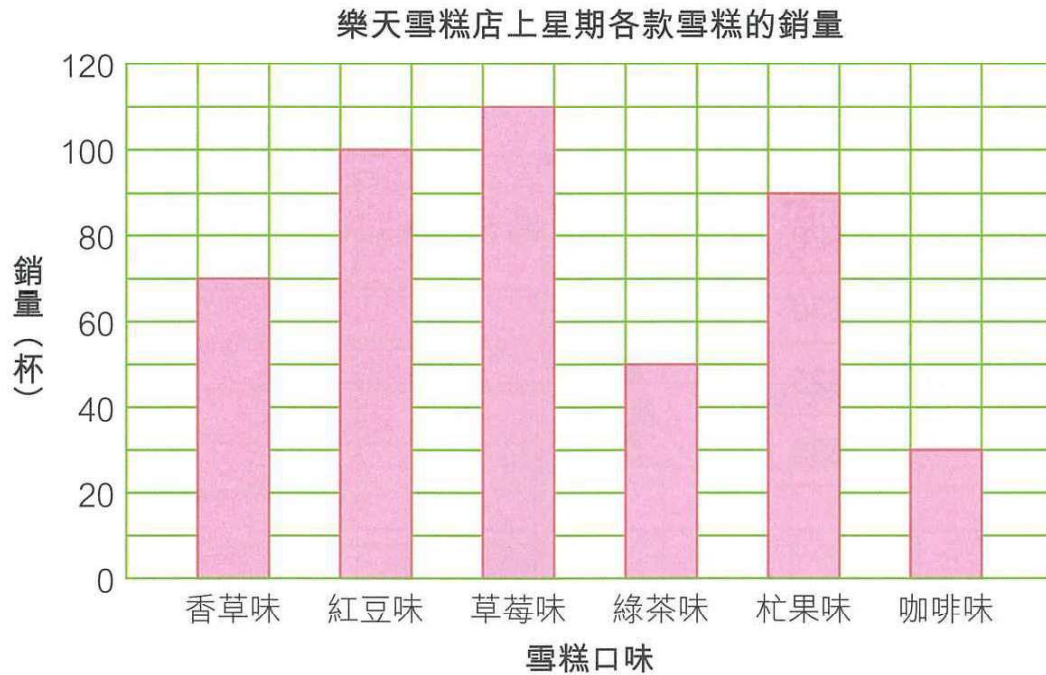
 以下的棒形圖顯示了寵物店上月售出各品種狗隻的數量。

寵物店上月售出各品種狗隻的數量



- 上月售出的貴婦狗中，有一半是褐色的，即售出 _____ 隻褐色貴婦狗。
- 上月和本月共售出 20 隻史納莎，即本月售出 _____ 隻史納莎。
- 在棒形圖上加畫直線，表示寵物店上月平均售出各品種狗隻的數量。

8. 樂天雪糕店統計了上星期各款雪糕的銷量，結果如下。



(a) 雪糕店上星期銷量最高的是 _____ 味雪糕，共售出 _____ 杯。

(b) 紅豆味雪糕的銷量是 _____ 味雪糕的 2 倍。

(c) 香草味雪糕的銷量比朧果味的 * 多 / 少 _____ 杯。(* 圈出答案)

(d) 朧果味雪糕的銷量佔全部雪糕的幾分之幾？

答案：朧果味雪糕的銷量佔全部雪糕的 。

(e) 雪糕店上星期售出不多於 50 杯的雪糕口味是 _____ 味和 _____ 味。

(f) 雪糕店想改良以上其中一款口味的雪糕，然後再作推廣。店主應選擇哪一款口味的雪糕作改良和推廣？為甚麼？

答案：_____ 味，因為 _____
 _____ 。