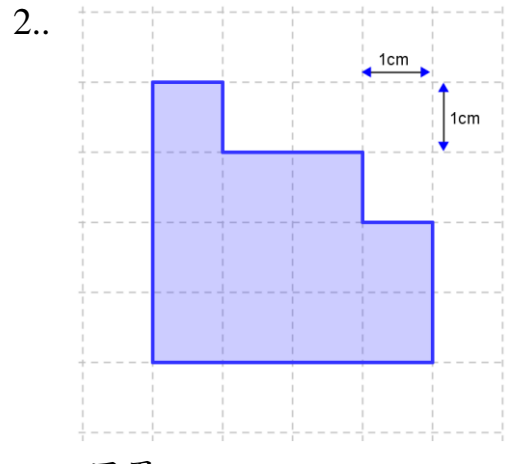
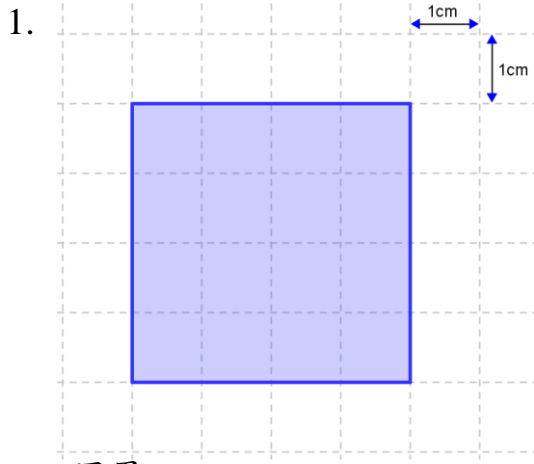


林村公立黃福鑾紀念學校  
四年級 數學科  
圖形的周界(一)

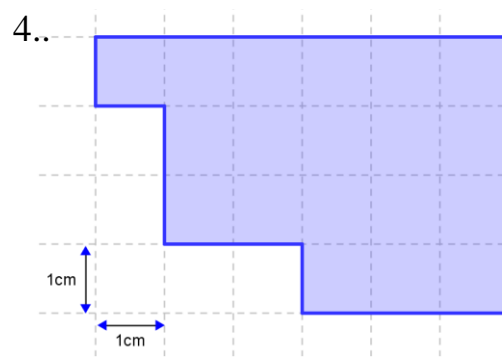
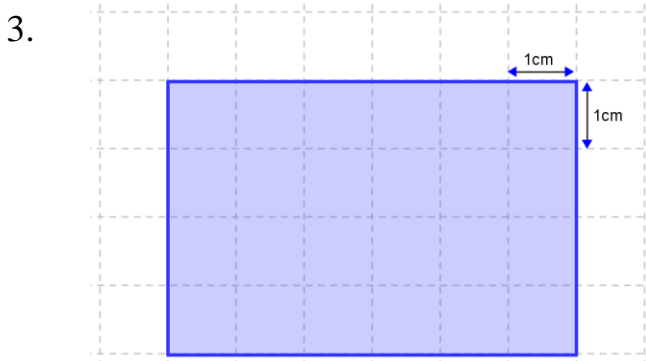
姓名： \_\_\_\_\_ ( )  
班別： \_\_\_\_\_  
日期： \_\_\_\_\_  
成績： \_\_\_\_\_

計算下列各着色部分的周界。



小結：

我發現了上述 2 個正方形的形狀( 相同 / 不同 )，它們的周界( 相同 / 不同 )。



小結：

我發現了上述 2 個長方形的形狀( 相同 / 不同 )，它們的周界( 相同 / 不同 )。

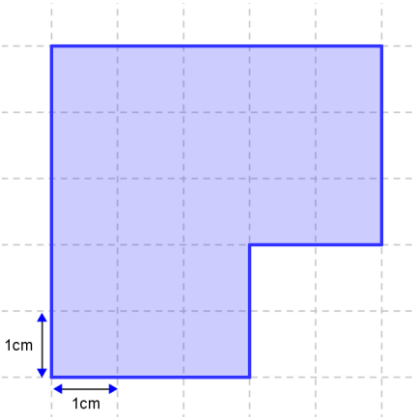
總結：

對於一些不規則圖形的周界，透過「遷移周界 / 移邊」後，

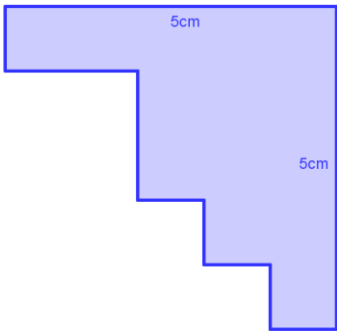
運用 \_\_\_\_\_ 或 \_\_\_\_\_ 周界的公式  
計算這些圖形的周界。

計算下列各着色部分的周界，並寫出橫式、答案、單位和答句。

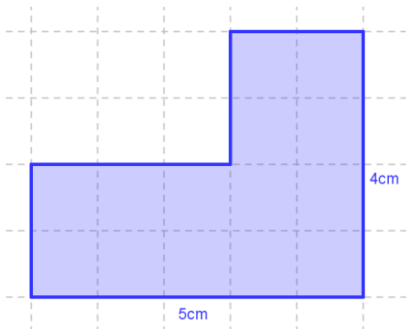
1.



2.

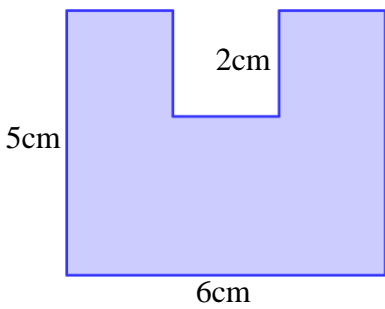


3.



**挑戰題：**

4.



5.

