





請在題目上做記號，並運用思考區，幫助同學理解問題。

		思考區
1	糖水每碗售 18 元，玲玲有 50 元，她最多可買糖水多少碗？	餘下的錢可買多一碗糖水嗎？
2	雞蛋 125 隻，每 18 隻一盒，共可裝成多少盒？媽媽把餘下的雞蛋吃了，她共吃了雞蛋多少隻？	餘下的多少雞蛋給媽媽吃了？
3	詩敏和三位小朋友合資購買一盒價值 224 元的巧克力，他們平均需付多少元？	有多少人合資買巧克力？
4	升降機每次可載 14 人，現有 158 人在等候，升降機最少需走要走多少次，才可載走所有人？	餘下的人需要多坐一次升降機嗎？
5	每張桌子可坐 12 人，現有客人 333 人，最少需桌子多少張？	餘下的人需要多一張桌子嗎？

		思考區
6	吊車每輛可載 15 人，現有 336 位乘客，共需吊車多少輛？	
7	曲奇餅每盒 44 件，把 8 盒曲奇餅分給 24 位小朋友，每人最多可得曲奇餅多少件？	
8	三明治 318 件，每 16 件一碟，最少要碟子多少隻？	
9	橙 575 個，每 25 個一袋，共可分成多少袋？	
10	每輛旅遊巴士可載 56 人，630 人最少需要旅遊巴士多少輛？	