


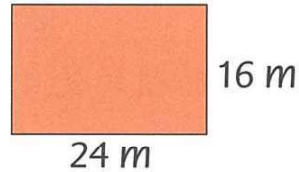
計算下列長方形的面積。

①



面積是 _____ cm^2

②



面積是 _____ m^2

完成下表。

③

④


⑤

⑥

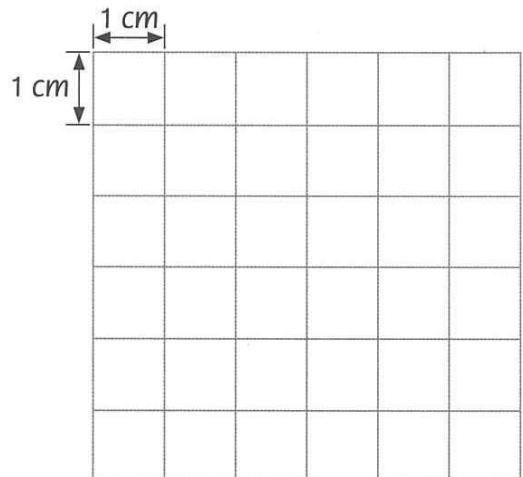
| 長方形 | 長 | 闊 | 面積 |
|-----|-------------|-------------|--------------------|
| A | 20 cm | 7 cm | ____ (____) |
| B | 8 m | 6 m | ____ (____) |
| C | 17 m | ____ (____) | 221 m^2 |
| D | ____ (____) | 40 cm | 3200 cm^2 |

算一算，畫一畫。

- ⑦ 計算下圖長方形的面積，並在右面的方格紙上畫出一個與下圖面積相等，但形狀不同的長方形。



面積是 _____ cm^2

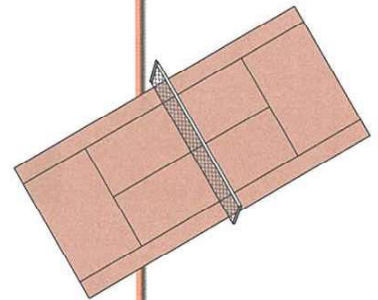



列式計算下列各題。

- ⑧ 長方形生日卡長 20 厘米，闊 15 厘米。生日卡的面積是多少平方厘米？



- ⑨ 網球場長 24 米，面積是 264 平方米，它的闊是多少米？



- ⑩ 長方形的揮春闊 13 厘米，長是闊的 3 倍少 7 厘米。揮春的面積是多少平方厘米？

