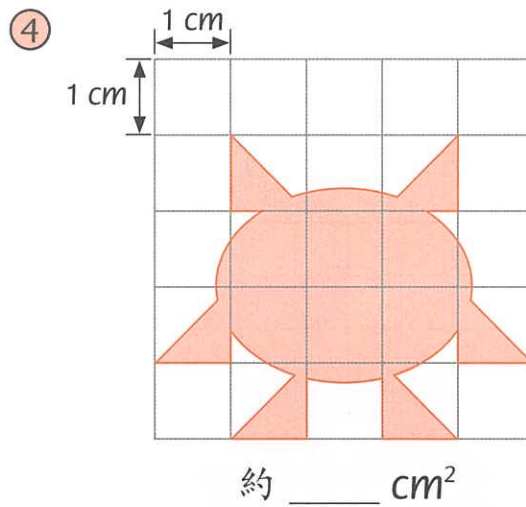
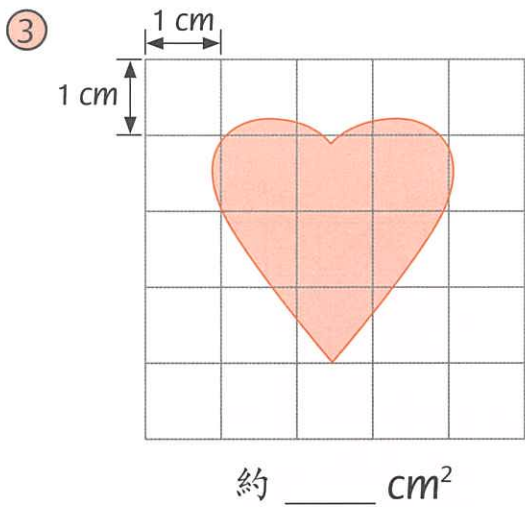
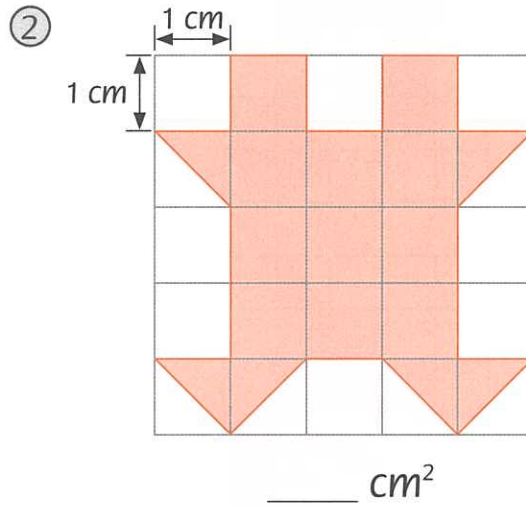
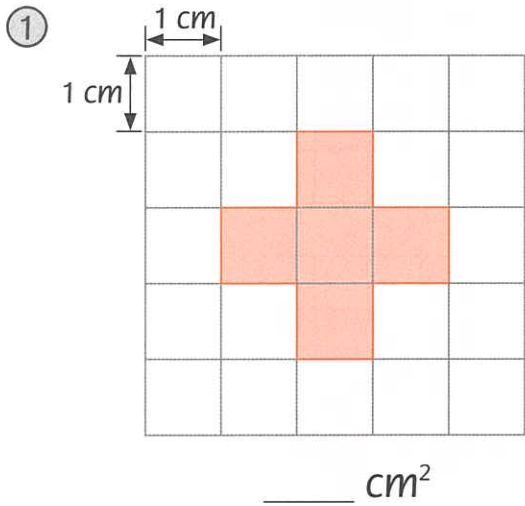
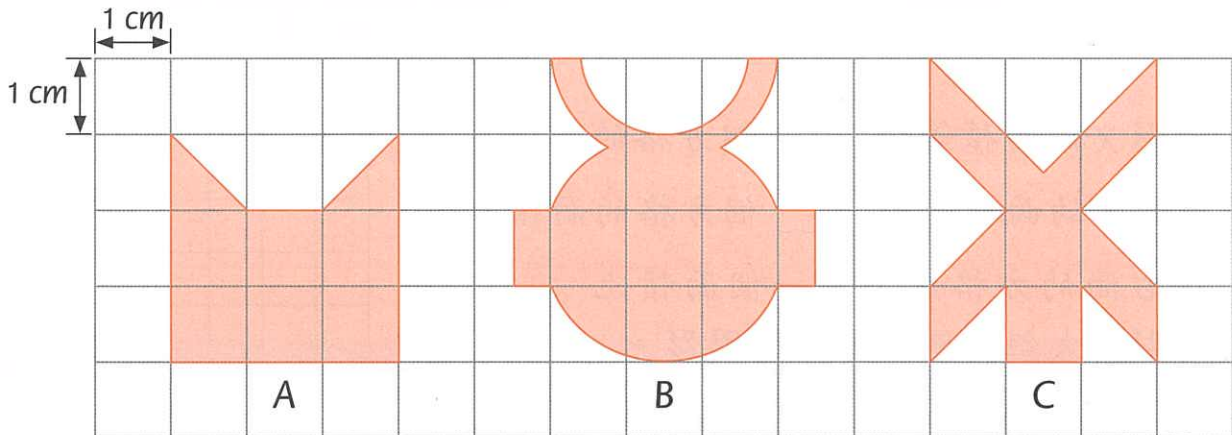


找出下列各圖中着色部分的面積。



⑤ 比較下面各平面圖形 A、B 和 C 的面積，由大至小排列出來。

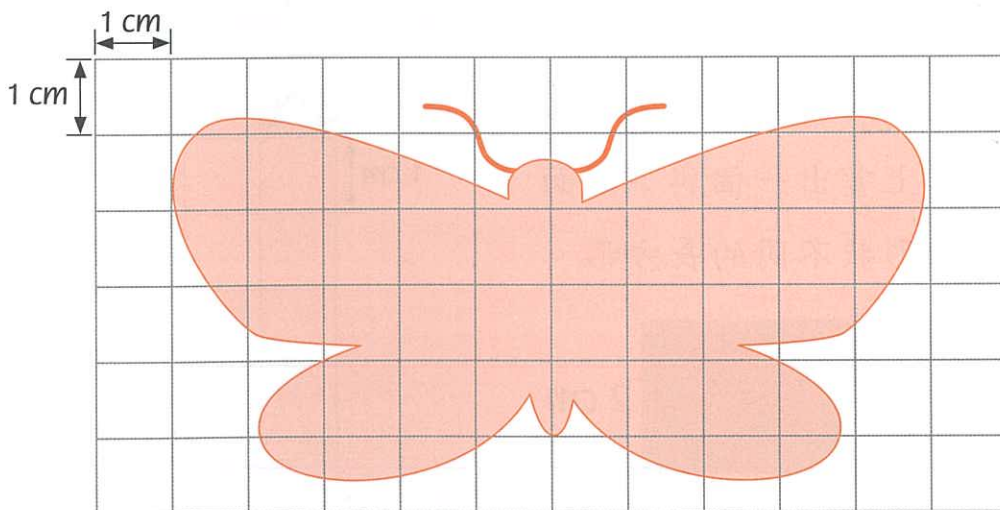


答案：\_\_\_\_\_，\_\_\_\_\_，\_\_\_\_\_ (填寫英文字母)  
 (最大) (最小)

### 圈出適當的答案。

- ⑥ 一片葉子的面積約是 10 ( 平方厘米 / 平方米 ) 。
- ⑦ 籃球場的面積約是 420 ( 平方厘米 / 平方米 / 公斤 ) 。
- ⑧ 一枚郵票的面積約是 4 ( cm / m /  $\text{cm}^2$  /  $\text{m}^2$  ) 。
- ⑨ 一個電腦屏幕的面積約是 ( 10 / 100 / 1000 ) 平方厘米 。
- ⑩ 身份證的面積約是 ( 2 / 50 / 100 ) 平方厘米 。
- ⑪ ( 手掌 / 數學習作簿封面 / 課室 ) 的面積約是  $50 \text{ cm}^2$  。

### 蝴蝶圖形



- ⑫ 這個蝴蝶圖形的面積約是 \_\_\_\_\_  $\text{cm}^2$  。