
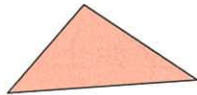


完成下列各題。

①

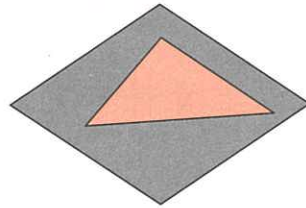


A



B

重疊




根據上圖，圖形 \_\_\_\_\_ 的面積較大。

②




C



D


重疊




根據上圖，圖形 \_\_\_\_\_ 的面積較大。


從貼紙頁 2 取出 ，鋪貼在下列各圖形內，然後數一數圖形的面積約等於多少個  的面積。

③



約 \_\_\_\_\_ 個 

④



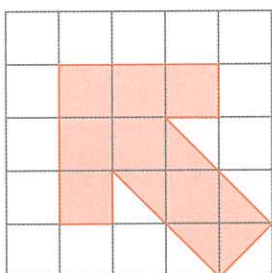
約 \_\_\_\_\_ 個 

⑤ 根據題 3 和 4 的結果， 的面積比  的 ( 大 / 小 ) 。

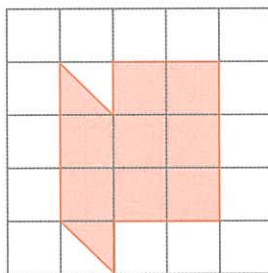
把圓圈塗黑和塗滿，以「●」表示正確答案。

⑥ 以下哪幅圖中着色部分的面積是最大的？

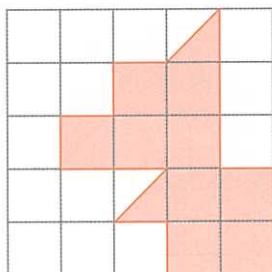
○ A.



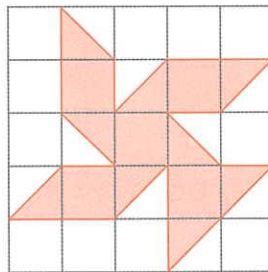
○ B.



○ C.

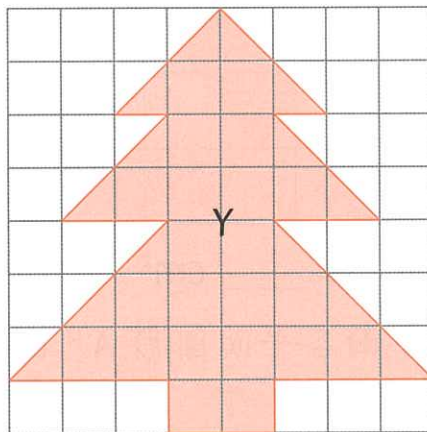
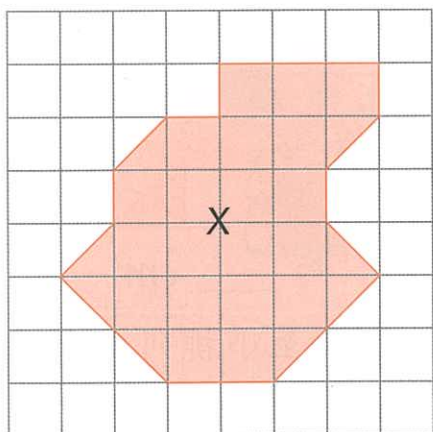


○ D.



### 畫圖形


明欣在方格紙上畫了一些圖形。



⑦ 圖形 X 的面積等於 \_\_\_\_\_ 個方格的面積。

⑧ 圖形 Y 的面積等於 \_\_\_\_\_ 個方格的面積。

⑨ 在右面的方格紙上畫一個面積比圖形 X 大但比圖形 Y 小的圖形。



我畫的圖形的面積等於 \_\_\_\_\_ 個方格的面積。