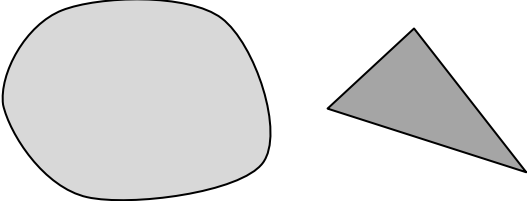
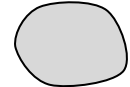

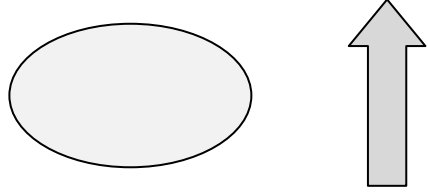




18 面積的認識



把下列圖形印畫在紙上，然後剪出來，利用重疊的方法比較它們的面積，並圈出正確的答案。


1. 

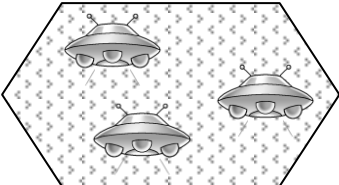
( / ) 的面積較大。


2. 

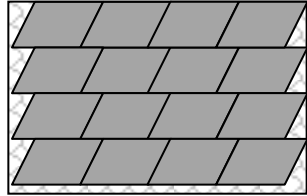
( / ) 的面積較小。

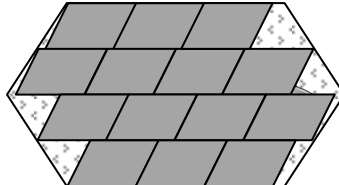
家俊利用  來比較以下兩張貼紙的面積。先數一數各貼紙的面積約等於多少個 ，然後比較它們的面積，圈出答案。




貼紙 A 

貼紙 B 



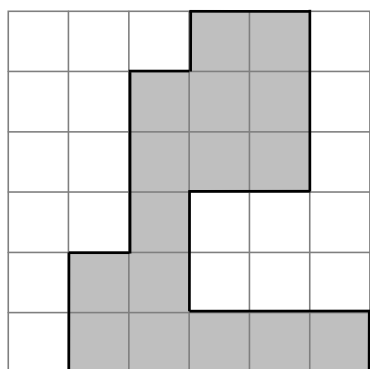




- 貼紙 A 的面積約等於 _____ 個 。
- 貼紙 B 的面積約等於 _____ 個 。
- 貼紙 (A/B) 所用的  較多，所以貼紙 (A/B) 的面積較大。

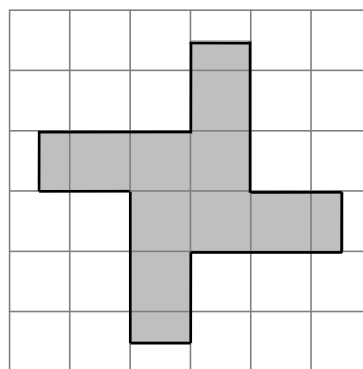
數一數，下列各圖形的面積等於多少個方格的面積？

6.



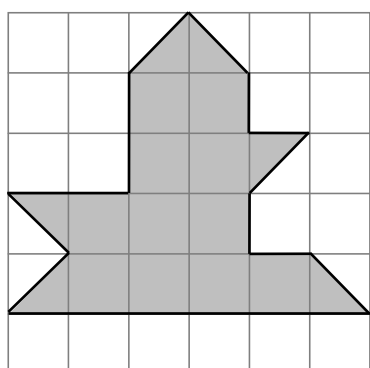
_____ 個方格

7.



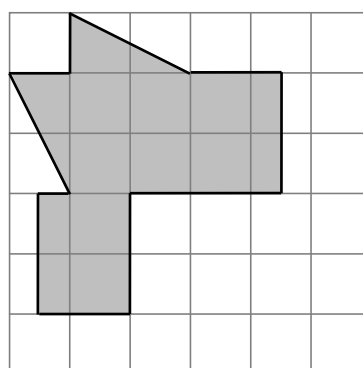
約 _____ 個方格

8.



_____ 個方格

9.



約 _____ 個方格

在下面的方格紙上畫一個面積等於 10 個方格的面積的圖形。

10.

