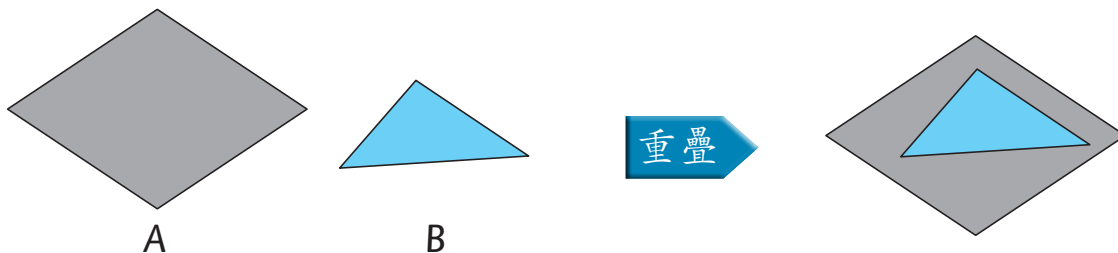


完成下列各題。

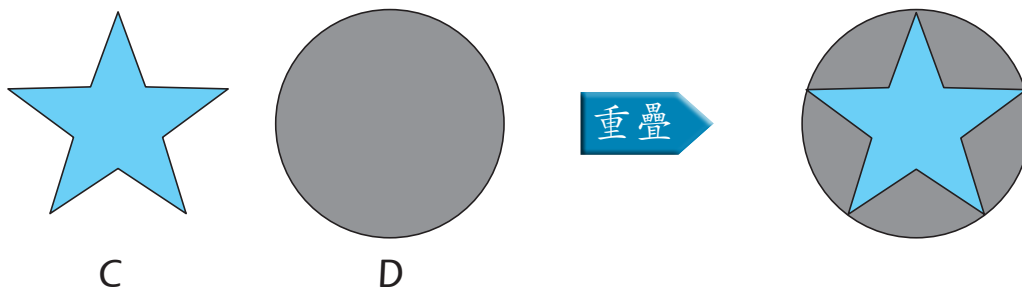
題 1 至 2：用重疊法來比較面積。
 題 3 至 5：用自訂單位的方法來量度面積。
 題 6 至 9：用數方格的方法來量度面積。

①



根據上圖，圖形 A 的面積較大。

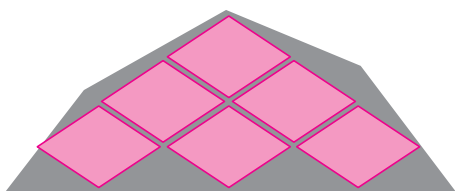
②




根據上圖，圖形 D 的面積較大。

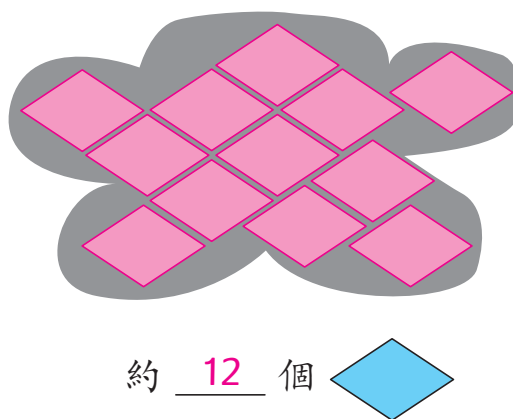
從貼紙頁 2 取出 ，鋪貼在下列各圖形內，然後數一數圖形的面積約等於多少個  的面積。

③



約 6 個 

④



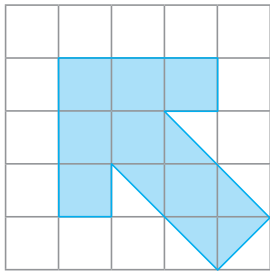
約 12 個 

⑤ 根據題 3 和 4 的結果， 的面積比  的 (大 / 小)。

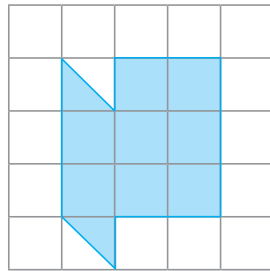
把圓圈塗黑和塗滿，以「●」表示正確答案。

TSA ⑥ 以下哪幅圖中着色部分的面積是最大的？
2008 6MC1 Q31

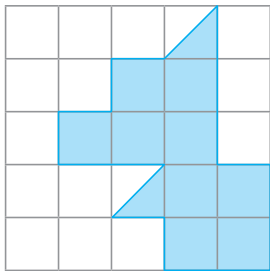
A.



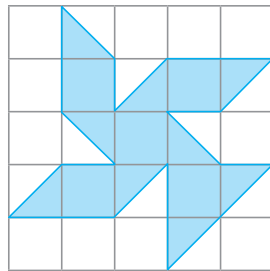
B.



C.

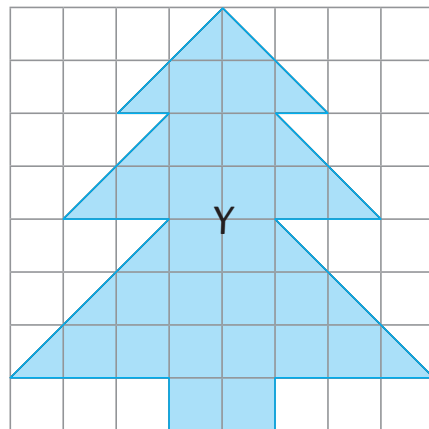
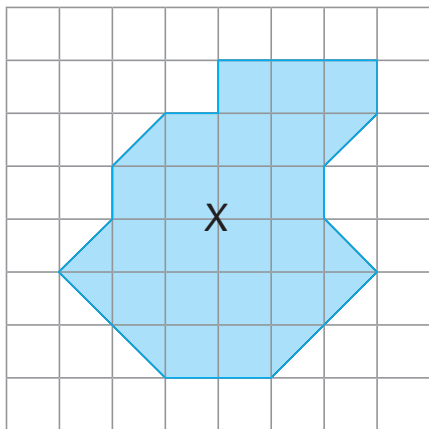


D.



畫圖形

明欣在方格紙上畫了一些圖形。



- ⑦ 圖形 X 的面積等於 24 個方格的面積。
- ⑧ 圖形 Y 的面積等於 29 個方格的面積。
- ⑨ 在右面的方格紙上畫一個面積比圖形 X 大但比圖形 Y 小的圖形。略。例：

我畫的圖形的面積等於 25 個方格的面積。答案應大於 24 並小於 29

