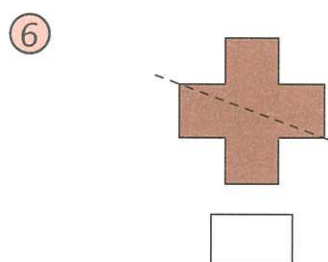
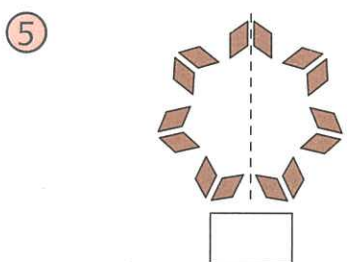
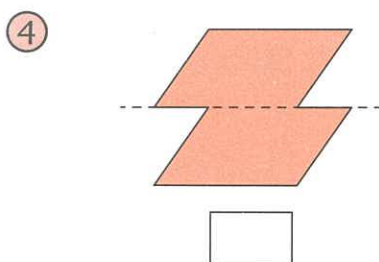
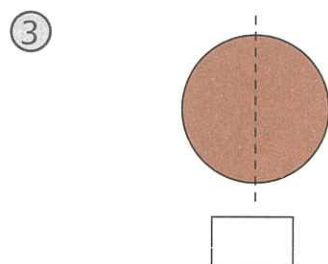
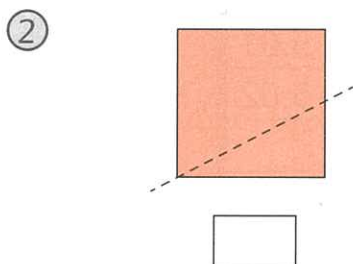
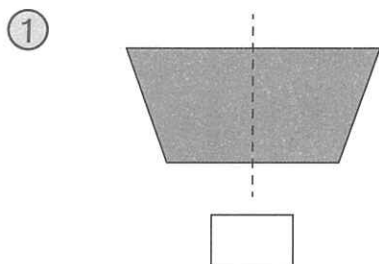


下列各圖中，如果虛線是圖形的對稱軸，在空格內加「✓」，不是的加「x」。



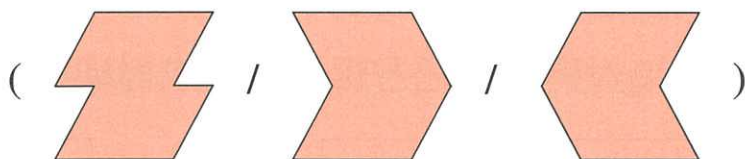
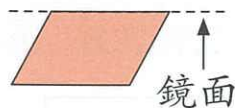
### 十八區區徽

⑦ 從貼紙頁 1 取出香港十八區的區徽，貼在適當的空位內。

區徽是對稱圖形的	區徽不是對稱圖形的

把鏡子垂直放在下面的虛線上，會出現甚麼圖形？圈出答案。

⑧



⑨

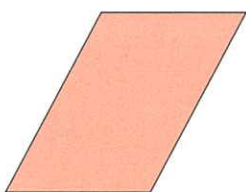


下列各圖中，是對稱圖形的，在空格內加「✓」，並用虛線畫出它的對稱軸，不是的加「x」。

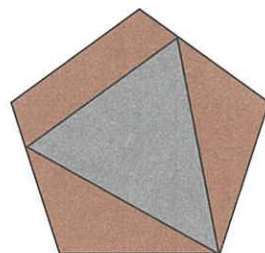
⑩



⑪




⑫




用虛線畫出以下各對稱圖形的所有對稱軸，並寫出對稱軸的數量。

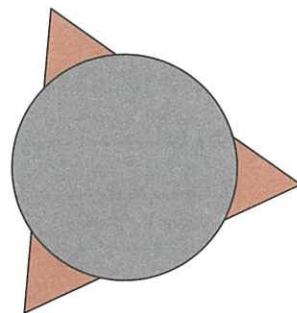
⑬



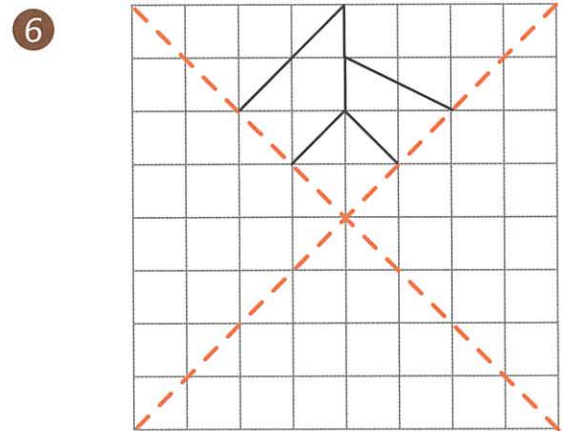
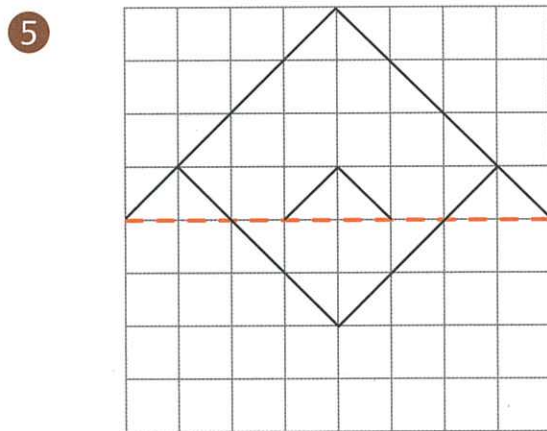
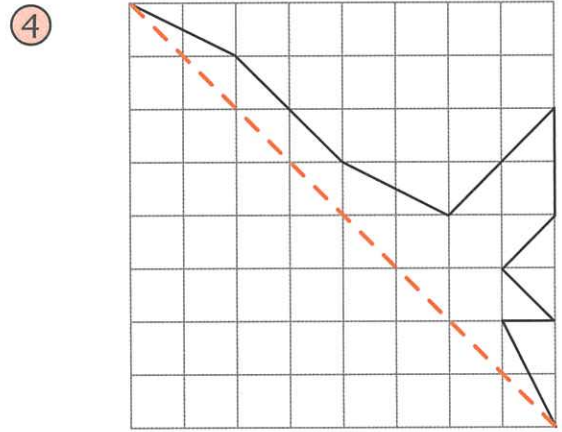
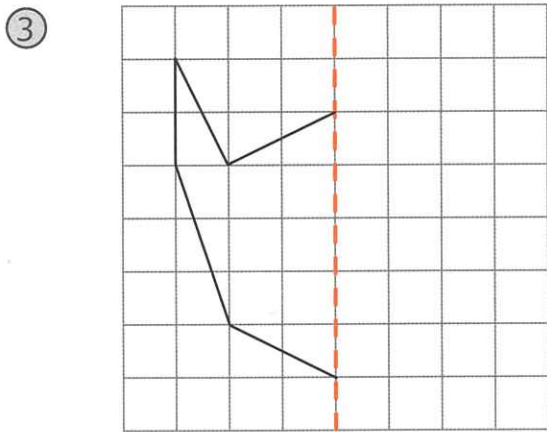
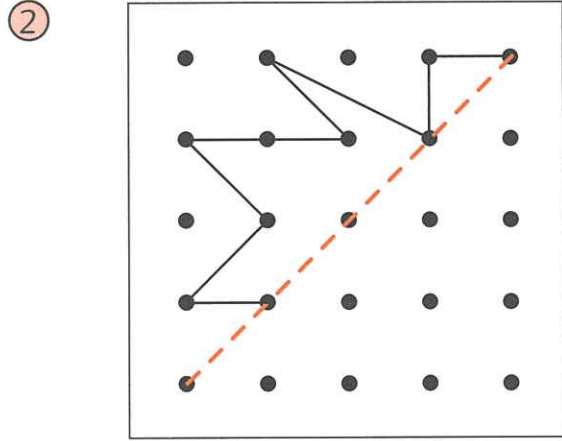
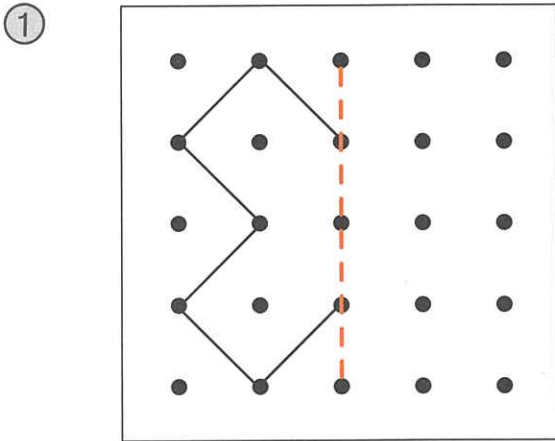
⑭



⑮



以虛線為對稱軸，把各圖形補畫成對稱圖形。

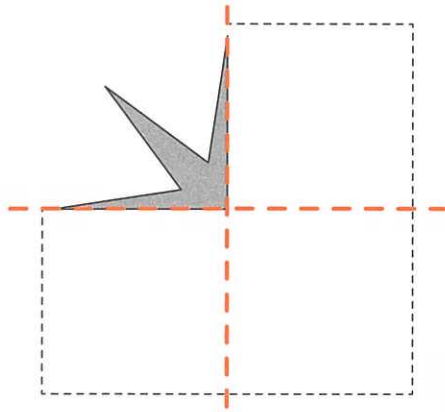




依指示完成下列各題。

⑦ 下面的色線是一個對稱圖形的對稱軸。

Ⓐ 從貼紙頁 1 取出適當的圖形部分，貼在下面，完成這個對稱圖形。



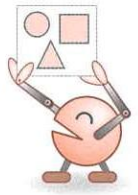
Ⓑ 在上圖中用虛線加畫餘下的所有對稱軸。

Ⓒ 這個圖形共有多少條對稱軸？

答案：共有 \_\_\_\_\_ 條對稱軸。

⑧ 把一張正方形手工紙對摺兩次，然後剪出一個最少有 2 條對稱軸的圖形，貼在下面。





第 14 課 (p. 6)

 中西區	 離島	 九龍城	 葵青	 觀塘	 北區
 沙田	 深水埗	 南區	 大埔	 荃灣	 屯門
 灣仔	 黃大仙	 東區	 油尖旺	 西貢	 元朗

第 15 課 (p. 9)

