

# 練習 14

把對稱圖形圈出來，並用虛線畫出對稱軸。

1  
答案



下列的對稱圖形，如果虛線是它的對稱軸，在空格內加「✓」，不是的加「X」。

2  
答案




3  
答案



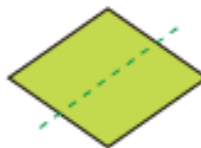

4  
答案



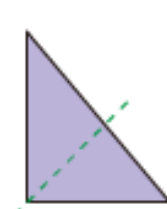

5  
答案




6  
答案




7  
答案




用虛線畫出以下各對稱圖形的所有對稱軸。

8  
答案



9  
答案



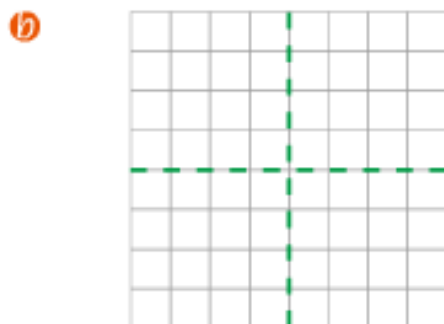
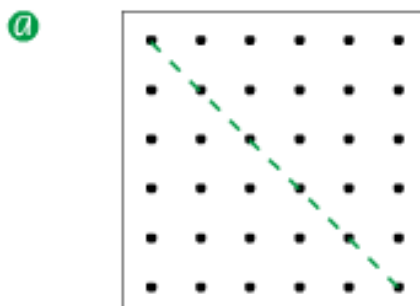
10  
答案



# 練習 15

依指示完成下列各題。

- ① 以虛線為對稱軸，設計一個對稱圖形。



- ② 剪出幾個對稱圖形，貼在下面構成一幅美麗的圖畫。



- ③ 從剪貼頁 1 (p. 109) 剪出以下各對稱圖形的一半，然後利用剪出的圖形在下面印畫，完成對稱圖形，並加上對稱軸。



1

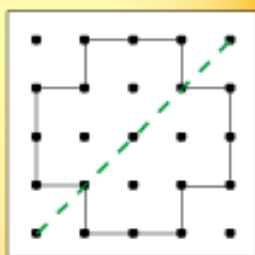


把左面的圖形依虛線對摺，圖形的左右兩面能夠完全重疊，所以它是對稱圖形，虛線就是這個圖形的對稱軸。

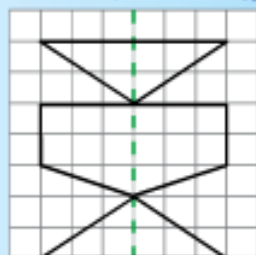
我明白了

2 來看看怎樣製作對稱圖形。

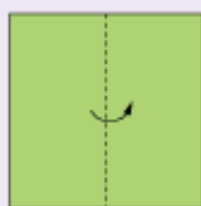
釘點紙



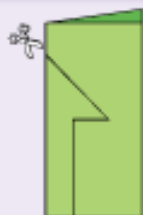
方格紙



剪紙



對摺



剪出圖案



張開

我明白了


### 概念小測試



學火器教室



答案





# 單元綜合應用練習

姓名：\_\_\_\_\_

班別：\_\_\_\_\_ ( )

① 以下哪些是對稱圖形？寫出所有代表答案的英文字母，並加畫出所有的對稱軸。



答案

A



B



C



D



答案：\_\_\_\_\_

②



我用四張相同的卡紙拼成右面的圖形：

15 cm 15 cm  
15 cm



答案



答案

(a) 拼成的新圖形的周界是 \_\_\_\_\_ cm。

(b) 用虛線在右面畫出新圖形的所有對稱軸。

