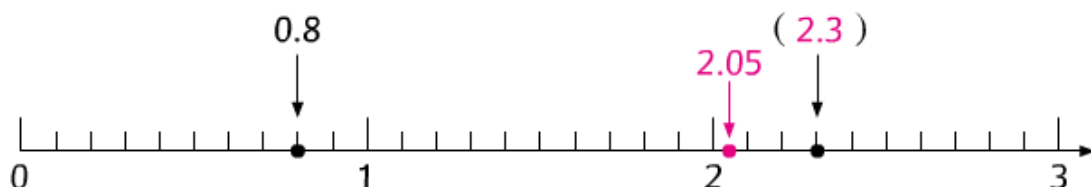




全頁答案

依指示完成下列各題。

- ① 在 () 內用小數寫出箭嘴所指的刻度。



- ② 在上面的數線上，用紅色箭嘴標示出 2.05 的位置。
- ③ 以箭嘴所表示的三個小數中，最小的是 0.8，最大的是 2.3。

把下列各組小數由小至大排列出來。

- ④ $4.3, 0.8$
0.8 < 4.3
- ⑤ $0.53, 0.534$
0.53 < 0.534
- ⑥ $0.3, 0.283, 0.287$
0.283 < 0.287 < 0.3
- ⑦ $7.5, 7.05, 7.055$
7.05 < 7.055 < 7.5

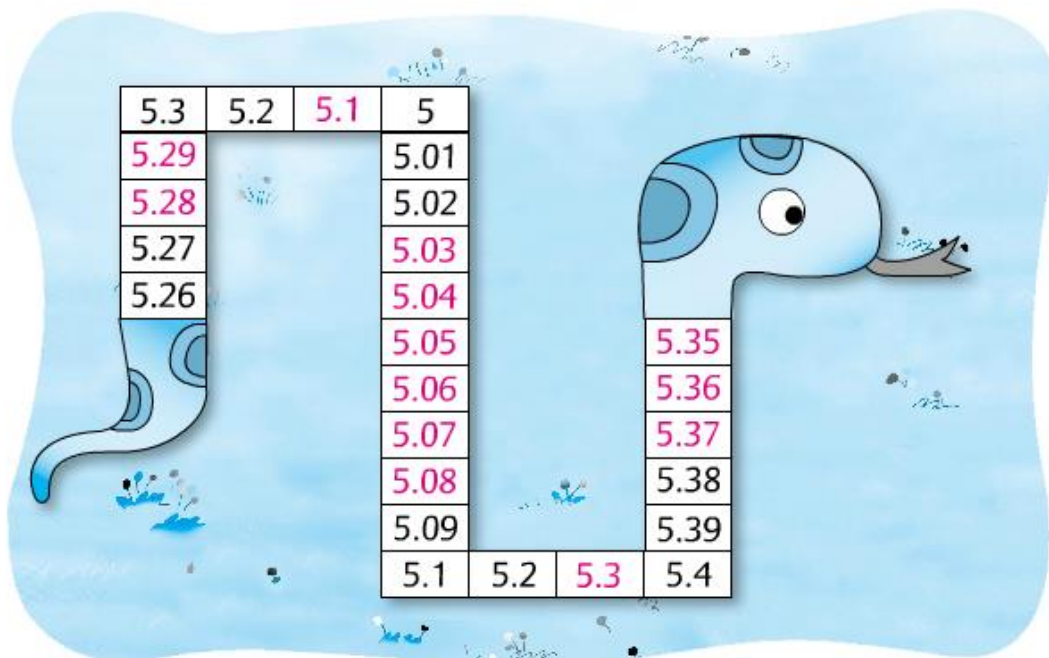
依指示組成適當的小數。

- ⑧ 用 3、2 和 7 組成一個比 3.8 大的二位小數：7 . 2 3 或 7.32
- ⑨ 用 0、5、2 和 8 組成最小的一位小數，而且當中的 0 不能被省略：
2 0 5 . 8

哪些「0」不能被省略？


填填看。

- ⑩ a 依照下圖中的數變化的規律，在空格內填寫正確的數。



- b 上圖各數中，最小的是 5，最大的是 5.4。

比較身高



- ⑪ 曉東 的身高是 1.26 米。
 ⑫ 明德 的身高是 1.32 米。

我的身高是 130 厘米。



- ⑬ 曉東、明德 和 淑儀 三人之中，最高的是 明德。